

菊女式 さくら子ちゃんの

脳トレノート

これであなたも脳トレ名人



11月

2021

この中から、 食べ物を見つけてください♡

上下左右をくっつけて探してね。
右から読んでも左から読んでもOK！
上から読んでも下から読んでもOK！
でも、斜めでは考えないよ。

い	く	る	ま	ご	ま
ち	り	び	ん	と	ろ
ご	り	ー	ご	ん	り
ま	す	し	ー	り	す
か	い	ろ	ば	い	く



1. 次の文章が尊敬語になるように下の語群から言葉を選んでください。

- ① 先生が来る。→先生が_____。
- ② お客様が作品を見る。→お客様が作品を_____。
- ③ 先生が食べる。→先生が_____。

○召しあがる ○いらっしゃる ○ご覧になる


2. 次の文章が謙譲語になるように下の語群から言葉を選んでください。

- ① 先生からお土産をもらう。→先生からお土産を_____。
- ② お客様に見せる。→お客様に_____。
- ③ そちらに行きます。→そちらに_____。

○お見せする ○伺います ○いただく

お金の計算をしよう♡

- ① さくら子ちゃんは、2500円持って買い物に来ています。
1つ100円のお菓子を10個
1つ200円の飲み物を5個買いました。
残金はいくらになるでしょう？



- ② さくら子ちゃんの財布には、千円札が3枚と、100円玉が7枚、
10円玉が2枚入っています。
さくら子ちゃんは幾ら持っているでしょう？



次の年中行事のうち、11月のものを3つ
○で囲みましょう

①七五三

②勤労感謝の日

③冬至


④七草がゆ

⑤文化の日

⑥七夕



単位を考えてみよう♡



①私の体重は5トンです。
5トンって何キログラムかな？

答え _____

②僕の体重は2000kg
2000kgって
何トンかな？

答え _____



教養脳トレ

問1,地方問題

4つの中で熊本弁(肥後弁)ではないものはなんでしょう。

※答えは1つだけ選んでください。

A,リバテープ



B,あとぜき



C,おひめさん




D,しっぺ



問2,世界三大珍味は、『キャビア』『トリュフ』あと1つはなんでしょう。
次の3つから選んでください。

A,ブルーチーズ



C,フォアグラ



B,ビキーニョ



スポーツクイズ♡

1. ①日本がオリンピックで一番最初にメダルを受賞した競技は何？

A柔道 B短距離走 Cテニス

②古代のオリンピックでは、メダルの代わりに植物でできた冠を授けていました。その植物は何でしょう？

A月桂樹 Bオリーブ Cクローバー

③日本で一番人気のスポーツは何でしょう？

Aサッカー B野球 Cバスケットボール

スポーツなぞなぞ♡

2. ①小説家が得意なスポーツは何でしょう？






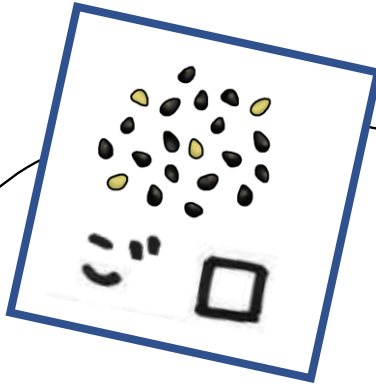
答え _____ ヒント:小説家のことは作家とも言います

②町や村では行わず、市内で行うスポーツは何でしょう？


答え _____ ヒント:市内(シナイを使うスポーツ)

食べ物しりとり♡

スタートからゴールまで、しりとりをしながら□に入る言葉を当てよう!



ゴール




お金の計算をしよう♡

①今日の料理のお買い物をしました。
全部でいくらかかったでしょうか？

②この材料で何のお料理ができるでしょうか？
ルーは茶色だよ！

・にんじん	...	70円
・玉ねぎ	...	70円
・じゃがいも	...	80円
・お肉	...	160円
・ルー	...	200円



行事と月を線で結んでみよう♡

1月・

・父の日

2月・

・七五三

3月・

・お正月

4月・

・七夕

5月・

・節分

6月・

・お盆

7月・

・エイプリルフール

8月・

・お月見

9月・

・ひな祭り

10月・

・クリスマス

11月・

・母の日

12月・

・ハロウィン




身体を動かして頭を働かせよう♡

パチパチ! 手を叩こう

やり方

円になって皆で1~30の数字を数えながら
3の倍数になったら手を叩きます。



12

1. ひらがな計算をしよう♡

① ろくたすはちぬくはな = _____

② きゅうたすごぬくはな = _____

③ じゅういちたすろくぬくきゅう = _____

④ にじゅうぬくじゅうはちたすた = _____

⑤ じゅうごぬくはちたすじゅうさん = _____

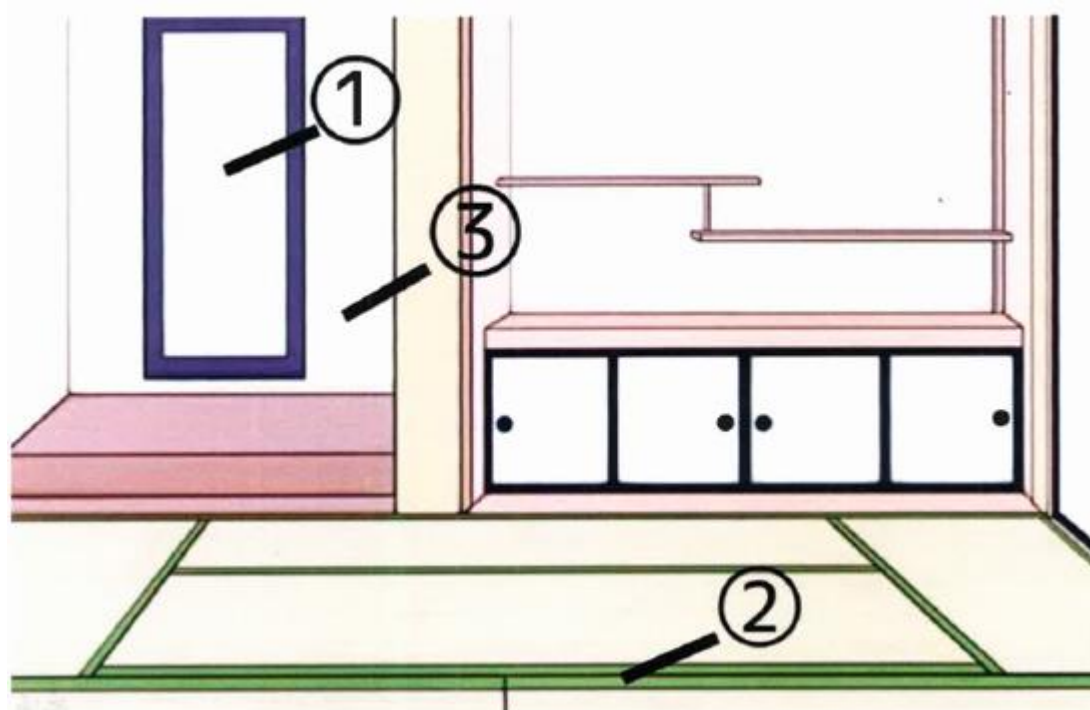
⑥ さんたすよんぬくに = _____

2. 1120円払いたい時のお金を探そう。

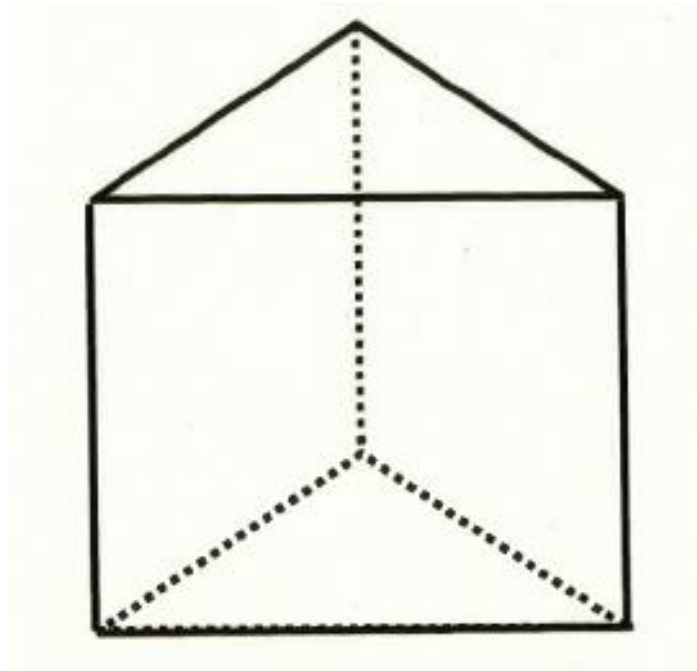
○をつけてね♡

<input type="checkbox"/>	<input type="checkbox"/>	<input type="checkbox"/>	<input type="checkbox"/>
<input type="checkbox"/>	<input type="checkbox"/>	<input type="checkbox"/>	<input type="checkbox"/>
<input type="checkbox"/>	<input type="checkbox"/>	<input type="checkbox"/>	<input type="checkbox"/>
<input type="checkbox"/>	<input type="checkbox"/>	<input type="checkbox"/>	<input type="checkbox"/>
<input type="checkbox"/>	<input type="checkbox"/>	<input type="checkbox"/>	<input type="checkbox"/>
<input type="checkbox"/>	<input type="checkbox"/>	<input type="checkbox"/>	<input type="checkbox"/>
<input type="checkbox"/>	<input type="checkbox"/>	<input type="checkbox"/>	<input type="checkbox"/>


和室の作りの名称を答えよう♡



1. この立体に四角はいくつあるかな？



2. 四角のなかに、100から120までの数字が入っています。
足りない数字はどれでしょう？




ちょっと休憩♡身体を動かそう!

片足立ちを10秒
やってみましょう



あぐらをかいて深呼吸
をしてリラックスしま
しょう



結婚して40年目の
記念日を何というでしょう♡



塗り絵をしよう♡
魚は青色に塗ってね。
魚は何匹いるかな？



計算をしよう。□に入る数字を答えてね♡

$$(1) \square - 4 = 2$$

$$(2) 7 - \square = 4$$

$$(3) 8 - \square = 1$$

$$(4) \square - 4 = 1$$

$$(5) \square - 2 = 5$$

$$(6) 4 - \square = 3$$

$$(7) 8 - \square = 6$$

$$(8) \square - 1 = 2$$

$$(9) 6 - \square = 1$$

$$(10) \square - 5 = 4$$

順番に数字を消していこう♡

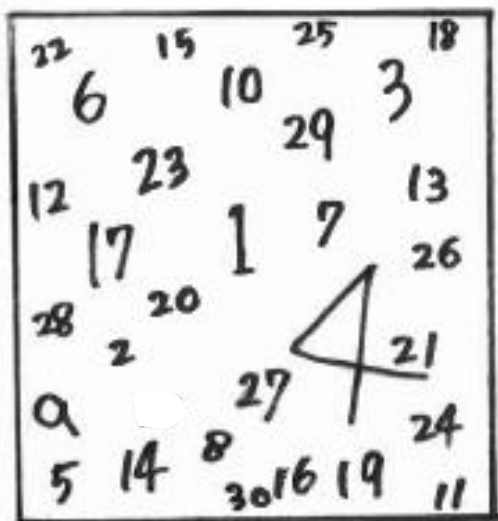
初級

1~20までの数を
順に消していこう!




中級

1~30までの数を
順に消していこう!



上級

1~40までの数を
順に消していこう!



～答え～

1.

い	く	る	ま	ご	ま
ち	り	び	ん	と	ろ
ご	り	い	ご	ん	り
ま	す	し	り	す	
か	い	ろ	ば	い	く

い	く	る	ま	ご	ま
ち	り	び	ん	と	ろ
ご	り	い	ご	ん	り
ま	す	し	り	す	
か	い	ろ	ば	い	く

↑イカとカイ

2-1. ①いらっしゃる ②ご覧になる ③召し上がる

2-2. ①いただく ②お見せする ③伺います

3. ①500円 ②3,720円

4. ①、②、⑤


5. ①5000kg ②2トン

6. 問1Dしっぺ 問2Cフォアグラ

7-1. ①Cテニス ②A月桂樹 ③B野球

7-2. ①サッカー ②剣道

8.



9. りんご → ごま → マグロ → ロールケーキ
 → キウイ → イカ → カニ → ニンニク
 → クルミ → ミルク → クッキー → キミ → ミカン

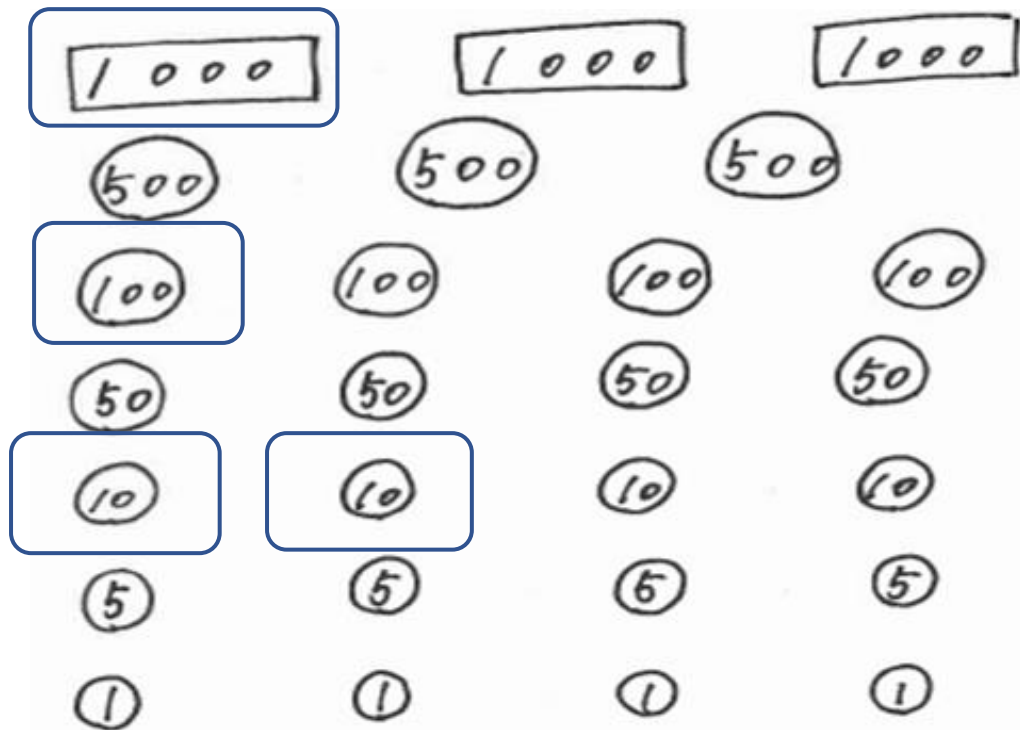
10. ① 580円 ② カレー

11. 1月ーお正月	7月ー七夕
2月ー節分	8月ーお盆
3月ーひな祭り	9月ーお月見
4月ーエイプリルフール	10月ーハロウィン
5月ー母の日	11月ー七五三
6月ー父の日	12月ークリスマス

12. 3, 6, 9, 12, 15, 18, 21, 24, 27, 30

13-1 ① 7 ② 7 ③ 8 ④ 4 ⑤ 20 ⑥ 5

13-2



ほかにもあるよ！探してみてね！

14. ①掛け軸 ②畳の縁 ③床の間

15-1. 3つ

15-2. 110、116

16. 深呼吸と片足立ちで、スッキリできたかな？

17. ルビー結婚式

18. 魚は6匹いるよ。

19. (1) 6 (2) 3 (3) 7 (4) 5 (5) 7
(6) 1 (7) 2 (8) 3 (9) 5 (10) 9

20. 時間を測って競ってみても楽しいですよ！

