



菊女式 さくら子ちゃんの

2022
Vol.1

脳トレノート

これであなたも脳トレ名人☆



この計算問題の()に
+ と - を入れてください!♥

[例] $2 (+) 3 = 5$

① $1 4 () 6 = 8$

② $1 8 () 6 + 2 = 1 4$

③ $5 () 3 () 4 = 1 2$

④ $1 4 () 2 - 5 = 1 1$

⑤ $1 2 () 3 = 9$

(答え) ① - ② - ③ +、+ ④ + ⑤ -

洋食・中華の正しい食べ方を ○×で教えてください



- ①食後に出てきたコーヒーは、両手で持って飲んでもいいですか？
- ②高級レストランで出されたパンはかぶりついて食べてもいいですか？
- ③中華料理では、麺はレンゲに乗せて食べた方がいいですか？
- ④ステーキを切る時は、右手にナイフ、左手にフォークを持って切ったらいいですか？

○ ④ ○ ③ × ② × ① (不正)

□に数字を入れて計算式を完成させてください

①

$$\begin{array}{ccccccc} 8 & + & 4 & & + & 3 & \\ & \swarrow & \searrow & & \swarrow & \searrow & \\ & & \square & - & 7 & & \\ & & & \swarrow & \searrow & & \\ & & & & 5 & & \end{array}$$

②

$$\begin{array}{ccccccc} \square & & + & 6 & - & \square & \\ & \swarrow & & \searrow & & \swarrow & \searrow \\ & & 10 & - & 3 & & \\ & & & \swarrow & \searrow & & \\ & & & & 7 & & \\ & & & & & & 3 \end{array}$$

(答え) ① 12 ② 4, 3

色を塗りましょう♡



オクティ




ギョウザ



ゼリー



串団子




トマト



スイカ



スイカ



ぶどう



ニンジン



リンゴ



魚カキ



キャンディ

ことわざクイズ♥

線で繋いでことわざを完成しよう

①頭かくして

A爪をかくす

②果報は

B尻かくさず

③能ある鷹は

C寝て待て




(答え) ① B ② C ③ A

ヒントを見て、「？」のなかに
何のイラストが入るか文字で答えよう！

★ヒント★



さくら



さら



くすり




くり

★問題★



羊 > (羊)

正月料理問題♥



おせち料理について各問に答えよ。

①きんときとはどのような漢字を書きましょう？

答え _____

②海の幸にはタイ、エビ、ブリ、イカ、こんぶなどがある。腰が曲がるまで長生きできるようにという意味が込められた海の幸はなに？

答え _____

③数の子の由来は次のうちどれでしょう？

ア,夫婦円満

ウ,家族団欒

イ,子孫繁栄

エ,健康第一



答え _____


④田作りに使われている魚はなんでしょう？

ア,サンマ

ウ,カタクチイワシ

イ,サバ

エ,アジ



答え _____

⑤おせち料理を入れる重箱。次の()に入る漢字はなに？

一の()、二の()、三の()、与の()

ア,箱

イ,重

ウ,段


エ,個

答え _____



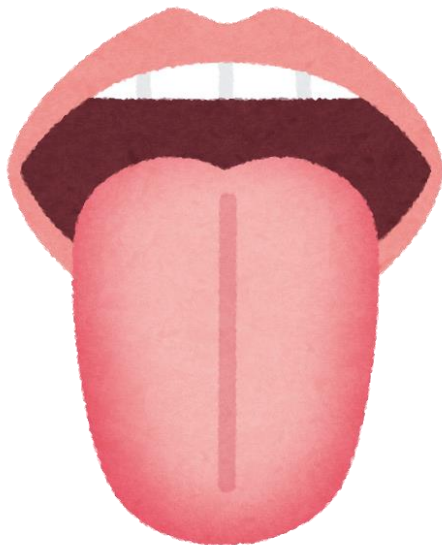

⑤イ ④ウ ③イ ②エ ①イ ⑤イ

口の体操をしよう♡



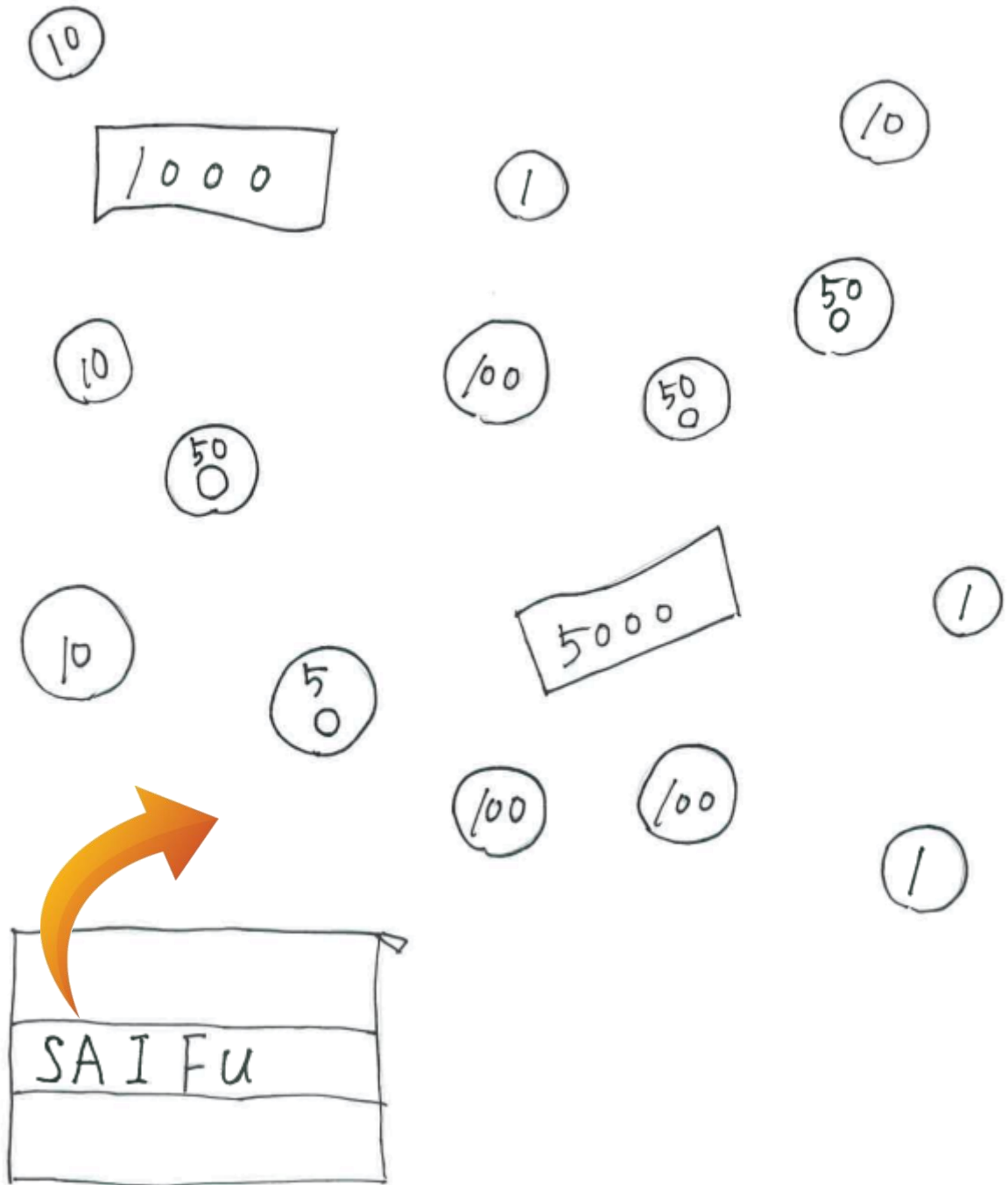
①あー！と言いながら口をおもいっきり開けてください！

②いー！と言いながら口を思いっきり横に広げてください



③舌をおもいっきりしたにべー！と出してグルグルまわしましょう。


財布の中には
全部でいくら入っているでしょう？



(答え) 6,498円




のまとまりはいくつあるでしょう。



(答え) 4つ

Q 1から30の30個の数字の1つ足りない数字は？

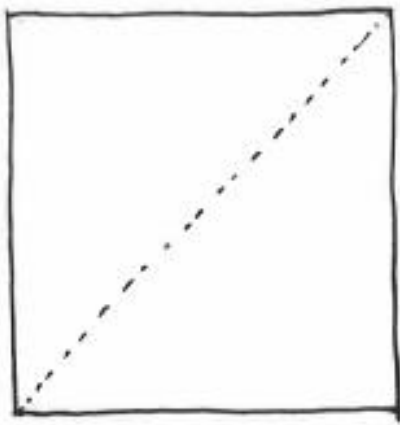


(答え) 4つ

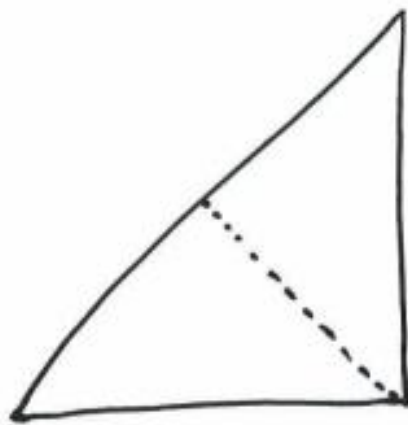


正方形の紙を図のように3回折り
3回目の中心をハサミで切りました。
どのような形がいくつできたでしょう！

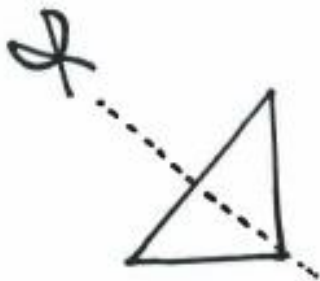
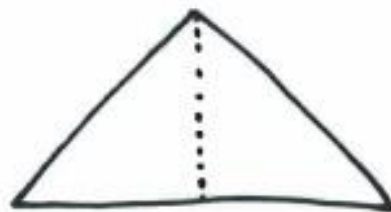
①



②



③



(答え) 正方形1つと三角形4つ

長い、ながーい足し算をしましょう♡

① $2 + 3 + 1 + 1 + 4 + 5 + 3 = ()$

② $4 + 1 + 3 + 1 + 3 + 5 + 3 = ()$

③ $5 + 4 + 4 + 3 + 3 + 1 + 3 = ()$

④ $1 + 5 + 1 + 3 + 3 + 5 + 3 = ()$

⑤ $1 + 1 + 2 + 2 + 2 + 5 + 5 = ()$

⑥ $1 + 4 + 4 + 2 + 3 + 2 + 4 = ()$

⑦ $4 + 5 + 2 + 3 + 3 + 1 + 3 = ()$

⑧ $4 + 1 + 3 + 4 + 3 + 4 + 4 = ()$

⑨ $3 + 5 + 3 + 4 + 3 + 4 + 5 = ()$

⑩ $2 + 5 + 2 + 2 + 5 + 4 + 1 = ()$

⑪ $1 + 2 + 4 + 3 + 5 + 5 + 3 = ()$

⑫ $2 + 4 + 1 + 3 + 1 + 4 + 3 = ()$

⑫ 18
⑬ 20

⑪ 18
⑫ 23

⑩ 21
⑪ 21

⑨ 23
⑩ 27

⑧ 20
⑨ 23

⑦ 19
⑧ 21

(答え)

ハンバーガーとポテトを下の図
だけ買いたいです。
全部でいくらになるでしょう？

ハンバーガー 〈450円〉



フライドポテト 〈150円〉



ヒント

$$\square \times \square + \square \times \square = \square$$

(答え) 2, 250円

9位で走っているさくらこちゃんが
8位と7位と6位をまとめて
抜きました。さて、さくらこちゃんは
今何位でしょう？



9位 (答え)

お願いをするとき、次の言葉は何と言い換えるとよいでしょうか？

第1問「手伝ってください。」



「????????」

第2問「知っておいてください。」



「????????」



第3問「見ておいてください。」



「????????」

(答え) 第1問「お力をお貸しください。」等
第2問「お含みおきください。」等
第3問「お目通しのほどお願いします。」等

教養脳トレ♡


①端午の節句はいつでしょうか。

7月7日

5月5日

4月5日

8月13日



②目の愛護デーというものがありますが、それはいつでしょうか？

※ヒント：数字を図にしてみてください！

10月10日

8月8日

9月20日

3月3日



(答え) ① 5月5日 ② 10月10日


□に同じひらがなを入れて
文字を完成させよう♡



①ペ□ぎ□



②くり□ま□



③□ふ□んす

ヒント：洋ナシの名前だよ

④か□す□よく



(答え) ①ん ②ず ③ら ④い

計算しよう♡ 何秒でできるかな？

① $8-2=$

② $11-7=$

③ $12-9=$

④ $6-1=$

⑤ $13-7=$

⑥ $1000-990=$

⑦ $1000-550=$

⑧ $1000-770=$

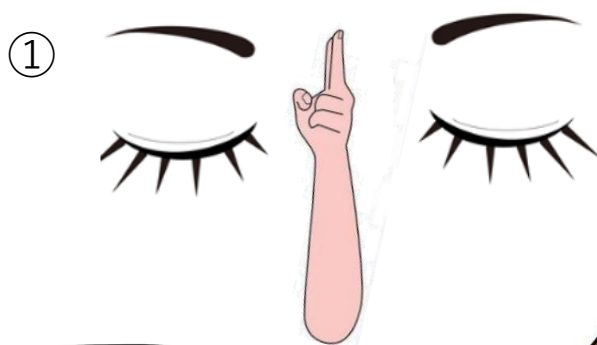
⑨ $1000-440=$

⑩ $1000-880=$

(答え) ① 6 ② 4 ③ 3 ④ 5 ⑤ 6 ⑥ 10 ⑦ 450 ⑧ 230 ⑨ 560 ⑩ 120

手話を覚えましょう♡

次に会う時は、
「こんにちは」で挨拶して
みてね。また会いましょう♡



①眉と眉の間に人差し指と
中指を当てます
(正午の12時を表しています)

②次に両手の人差し指を向
かい合わせて、おじぎをす
るように折り曲げます。

